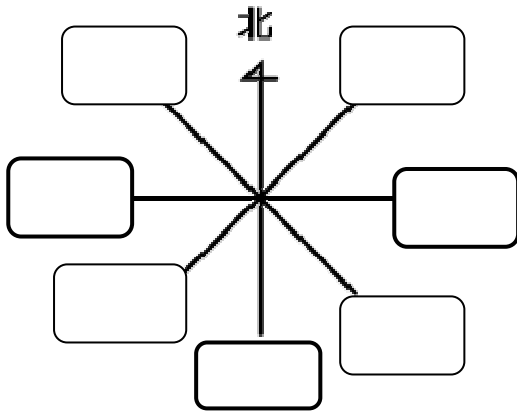
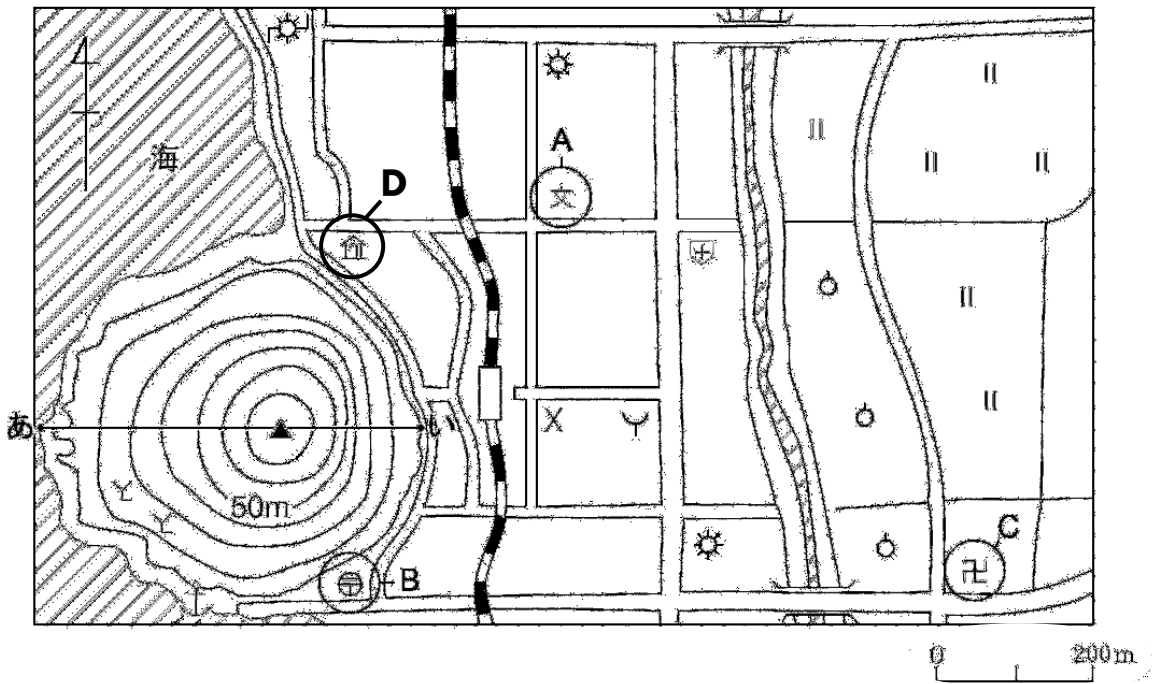


小社5年	地図のやくそく	組	氏名
No.1 補充		番	

1 下の にあてはまる方位を書きましょう。



2 下の地図をみて、次の(1)、(2)の問いに答えましょう。



(1) Aから見ると、Cはどちらの方位にありますか。

(2) A、B、Cの地図記号は、それぞれ何を表していますか。

A		B		C	
---	--	---	--	---	--

やってみよう！

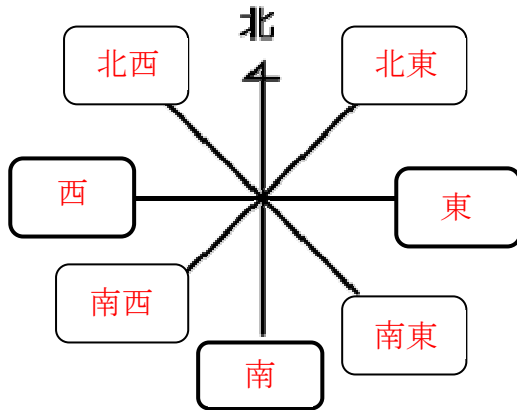
Dの地図記号は、「老人ホーム」を表しており、小・中学生から募集したデザインをもとに2006年に作られたものです。

あなたも、新しい地図記号を作ってみましょう。

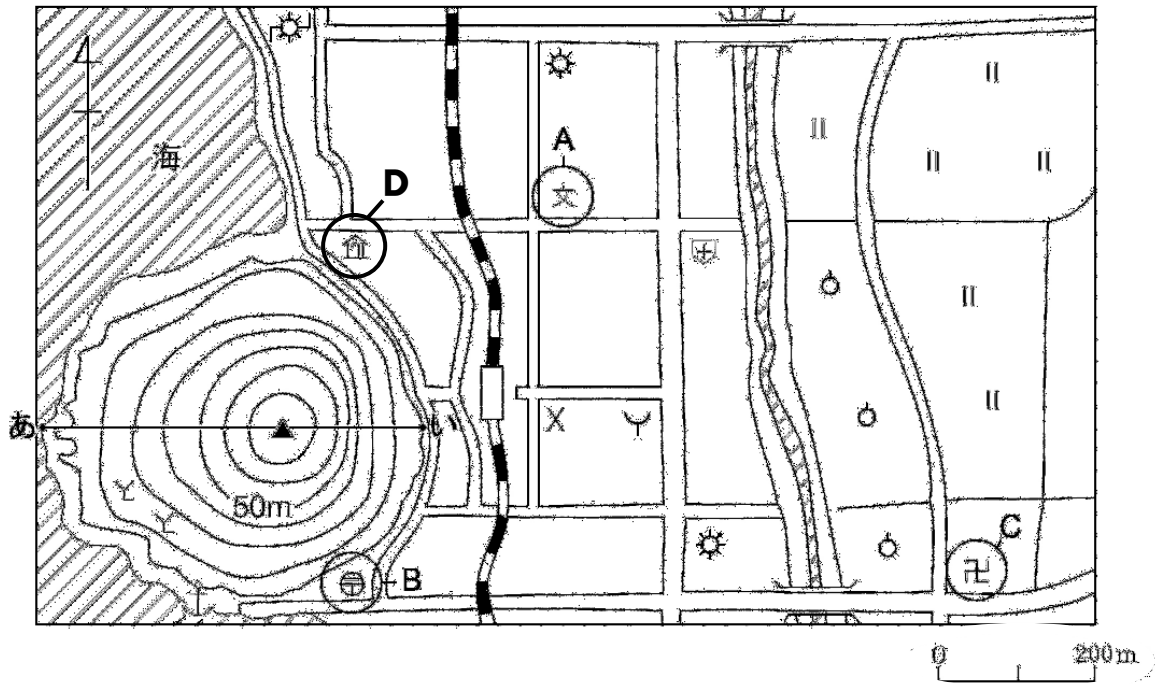


小社5年	地図のやくそく	組	氏名
No.1 補充		番	

1 下の にあてはまる方位を書きましょう。



2 下の地図をみて、次の(1)、(2)の問いに答えましょう。



(1) Aから見ると、Cはどちらの方位にありますか。

南東

(2) A、B、Cの地図記号は、それぞれ何を表していますか。

A	小中学校	B	郵便局	C	寺院
---	------	---	-----	---	----

やってみよう！

Dの地図記号は、「老人ホーム」を表しており、小・中学生から募集したデザインをもとに2006年に作られたものです。

あなたも、新しい地図記号を作ってみましょう。

例		養殖場
---	--	-----

