

小社5年	日本の工業生産	組	氏名
No.8 発展		番	

○ 資料1、2を見て、工業生産額の多い15の都道府県について、年ごとに下の白地図に色をぬりましょう。

<資料1>工業生産額ランキング(1965)

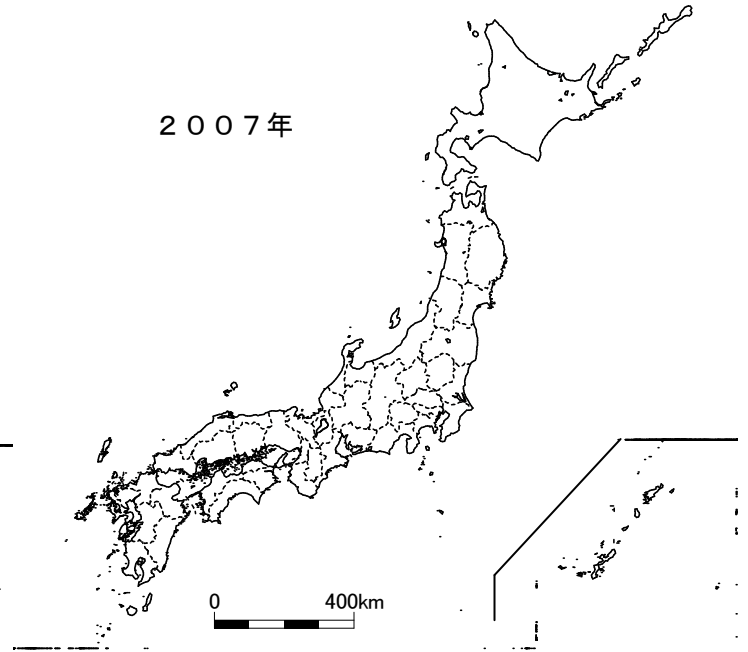
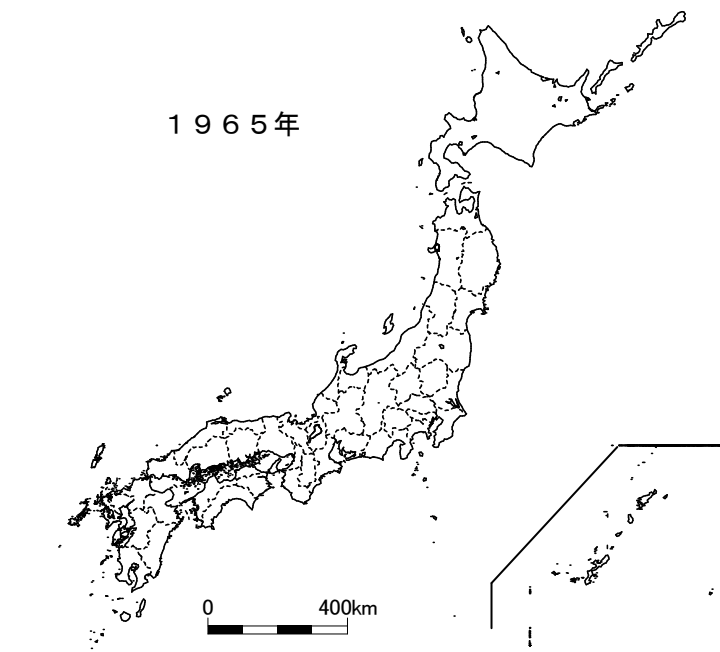
(経済産業省「工業統計調査」)

順位	都道府県名	順位	都道府県名
1	東京都	9	広島県
2	大阪府	10	北海道
3	神奈川県	11	千葉県
4	愛知県	12	京都府
5	兵庫県	13	山口県
6	静岡県	14	三重県
7	埼玉県	15	岡山県
8	福岡県		

<資料2>工業生産額ランキング(2007)

(経済産業省「工業統計調査」)

順位	都道府県名	順位	都道府県名
1	愛知県	9	三重県
2	神奈川県	10	東京都
3	静岡県	11	広島県
4	大阪府	12	栃木県
5	兵庫県	13	福岡県
6	埼玉県	14	岡山県
7	千葉県	15	群馬県
8	茨城県		



やってみよう!

上の二つの地図を比べてわかったことを、次のようにまとめました。( )の中に当てはまる言葉を書きましょう。

<まとめ>

日本の工業は、関東地方の南部から九州地方の北部にかけての海沿いに、帯のように工業のさかんな地域が続いている。これを、( )という。

1965年と比べると、2007年では、関東地方北部の( )県、( )県、( )県で工業がさかんになっていることがわかる。



小社5年	日本の工業生産	組	氏名
No.8 発展		番	

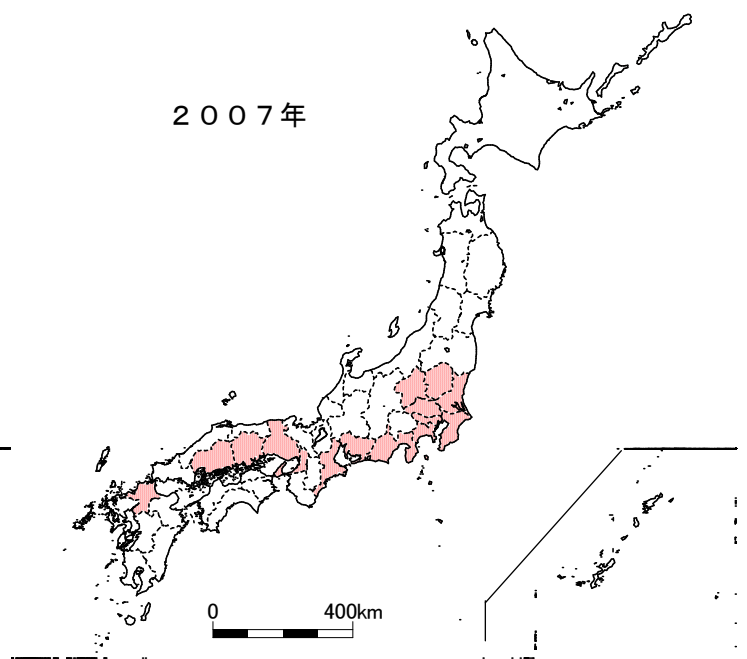
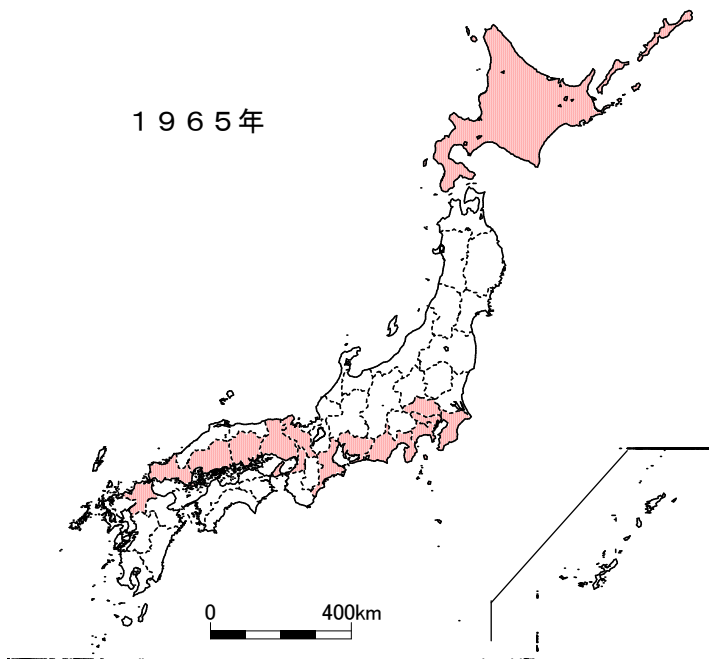
○ 資料1、2を見て、工業生産額の多い15の都道府県について、年ごとに下の白地図に色をぬりましょう。

<資料1>工業生産額ランキング(1965)  
(経済産業省「工業統計調査」)

順位	都道府県名	順位	都道府県名
1	東京都	9	広島県
2	大阪府	10	北海道
3	神奈川県	11	千葉県
4	愛知県	12	京都府
5	兵庫県	13	山口県
6	静岡県	14	三重県
7	埼玉県	15	岡山県
8	福岡県		

<資料2>工業生産額ランキング(2007)  
(経済産業省「工業統計調査」)

順位	都道府県名	順位	都道府県名
1	愛知県	9	三重県
2	神奈川県	10	東京都
3	静岡県	11	広島県
4	大阪府	12	栃木県
5	兵庫県	13	福岡県
6	埼玉県	14	岡山県
7	千葉県	15	群馬県
8	茨城県		



やってみよう!

上の二つの地図を比べてわかったことを、次のようにまとめました。( )の中に当てはまる言葉を書きましょう。

<まとめ>

日本の工業は、関東地方の南部から九州地方の北部にかけての海沿いに、帯のように工業のさかんな地域が続いている。これを、( 太平洋ベルト )という。1965年と比べると、2007年では、関東地方北部の( 茨城 )県、( 栃木 )県、( 群馬 )県で工業がさかんになっていることがわかる。

3つの県名が書けていればよい。

高速道路などが整備され、内陸にも工業地域がひろがってきたんだね。

